

अनुक्र.

नाम ...

932

825(CW)

2025

सामाजिक विज्ञान

(Hindi and English Versions)

समय : तीन घण्टे 15 मिनट]

[पूर्णांक : 70

नोट : प्रारम्भ के 15 मिनट परीक्षार्थियों को प्रश्नपत्र पढ़ने के लिए निर्धारित हैं ।

Note : First 15 minutes are allotted for the candidates to read the question paper.

निर्देश :

- i) सभी प्रश्न अनिवार्य हैं ।
- ii) इस प्रश्नपत्र के दो खण्ड, खण्ड - अ तथा खण्ड - ब हैं ।
- iii) खण्ड - अ में 1 अंक के 20 बहुविकल्पीय प्रश्न हैं जिनके उत्तर ओ० एम० आर० उत्तर पत्रक पर नीले अथवा काले बाल प्वाइंट कलम से सही विकल्प वाले गोले को पूर्ण रूप से काला कर चिह्नित करें ।
- iv) खण्ड - अ के प्रत्येक प्रश्न का निर्देश पढ़कर केवल प्रदत्त ओ० एम० आर० उत्तर पत्रक पर ही उत्तर दें। ओ० एम० आर० उत्तर पत्रक पर उत्तर देने के पश्चात उसे नहीं काटें तथा इरेजर अथवा हाइटनर का प्रयोग न करें ।
- v) प्रश्न के अंक उसके सम्मुख अंकित हैं ।
- vi) खण्ड - ब में 50 अंक के वर्णनात्मक प्रश्न हैं । इस खण्ड में वर्णनात्मक-I, वर्णनात्मक-II तथा मानचित्र सम्बन्धी दो प्रश्न हैं।
- vii) खण्ड - ब में सभी प्रश्नों के उत्तर एक साथ ही करें ।
- viii) प्रथम प्रश्न से आरम्भ कीजिए तथा अन्तिम प्रश्न तक करते जाइए । जो प्रश्न न आता हो उस पर समय नष्ट न कीजिए ।
- ix) दिए गए मानचित्रों को उत्तर-पुस्तिका के साथ मजबूती से संलग्न करना आवश्यक है।
- x) दृष्टिबाधित परीक्षार्थियों के लिए मानचित्र कार्य के स्थान पर अलग से प्रश्न संख्या 9(A) तथा 9(B) लिखने के लिए दिए गये हैं।

7031

[Turn over

Instructions :

- i) All questions are compulsory.
- ii) This question paper has *two* Parts - **Part-A** and **Part-B**.
- iii) **Part-A** consists of **20** multiple choice questions of one mark each that have to be answered on OMR Answer Sheet by darkening completely the correct circle with **blue or black ballpoint pen**.
- iv) For **Part-A** read the question-wise instructions and mark your answer on the given OMR Answer Sheet only. Do not cut, erase or use whitener on the OMR Answer Sheet after answering.
- v) Marks of the questions are mentioned against them.
- vi) **Part-B** consists of descriptive type questions of **50** marks. There are Descriptive-I, Descriptive-II and two map related questions in this part.
- vii) All the questions of **Part-B** are to be attempted all at a time.
- viii) Start from the first question and go up to the last question. Do not waste your time on the question you cannot solve.
- ix) Attach firmly the supplied maps in your answer-book.
- x) For visually impaired examinees Question Nos. 9(A) and 9(B) have been given separately for writing answers in lieu of map work.

खण्ड - अ

PART - A

(बहुविकल्पीय प्रश्न)

(Multiple Choice Type Questions)

निर्देश : नीचे दिए गए प्रश्नों के प्रत्येक प्रश्न के चार विकल्प दिए गए हैं। सही विकल्प चुनकर उसे **OMR** उत्तर पत्रक पर चिह्नित करें :

Instruction : Four alternatives are given for each of the following questions. Choose the correct alternative and mark on **OMR** answer sheet :

1. निम्न में से वह कौन है, जिसे ब्रिटेन, रूस, प्रशा और आस्ट्रिया जैसी महाशक्तियों से 1815 ई० में पराजय का सामना करना पड़ा ?
 - (A) आटो वॉन बिस्मार्क
 - (B) हिटलर
 - (C) नेपोलियन बोनापार्ट
 - (D) मेटरनिख

1. Who among the following had to face defeat in 1815 A.D. from superpowers like Britain, Russia, Prussia and Austria ?
- (A) Otto von Bismarck (B) Hitler
(C) Napoleon Bonaparte (D) Metternich 1
2. "जब फ्रांस छींकता है तो बाकी यूरोप में सर्दी जुखाम हो जाता है।" किसका कथन है ?
- (A) मेटर्निख (B) बिस्मार्क
(C) लुई फिलिप (D) नेपोलियन 1
2. "When France sneezes, the rest of the Europe catches cold." Whose statement is this ?
- (A) Metternich (B) Bismarck
(C) Louis Philippe (D) Napoleon 1
3. अन्तरराष्ट्रीय मुद्रा कोष की स्थापना किस सम्मेलन में हुई थी ?
- (A) गुटनिरपेक्ष सम्मेलन में (B) वार्सिय की संधि में
(C) ब्रेटन वुड्स सम्मेलन में (D) इस्ट इण्डिया कम्पनी के सम्मेलन में 1
3. In which conference was the International Monetary Fund established ?
- (A) Non-Aligned Conference (B) Treaty of Versailles
(C) Bretton Woods Conference (D) Conference of East India Company 1
4. 'रिंडरपेस्ट' नामक बीमारी 1890 ई० में कहाँ से फैली थी ?
- (A) अफ्रीका (B) दक्षिण अमेरिका
(C) भारत (D) रूस 1
4. From where did the disease called 'Rinderpest' spread in 1890 AD ?
- (A) Africa (B) South America
(C) India (D) Russia 1
5. 'स्पिनिंग जेनी' मशीन का प्रयोग निम्न में से किस कार्य हेतु किया जाता था ?
- (A) कताई की प्रक्रिया तेज करने के लिए (B) कपड़ों की धुलाई के लिए
(C) सुरंग का निर्माण करने के लिए (D) मिट्टी की खुदाई के लिए 1
5. 'Spinning Jenny' machine was used for
- (A) Speed up the spinning process
(B) For washing clothes
(C) Construction of tunnel
(D) For digging soil 1

6. निम्न में से 'गुलामगिरी' किसकी रचना है ?
- (A) डॉ० भीमराव रामजी अम्बेडकर (B) महात्मा गाँधी
(C) ज्योतिबा फुले (D) पं० मोतीलाल नेहरू 1
6. The author of 'Gulamgiri' is
- (A) Dr. Bhimrao Ramji Ambedkar (B) Mahatma Gandhi
(C) Jyotiba Phule (D) Pandit Motilal Nehru 1
7. भारत का संविधान के किस अनुसूची में भाषा का उल्लेख किया गया है ?
- (A) पहली अनुसूची (B) तीसरी अनुसूची
(C) बाहरवी अनुसूची (D) आठवी अनुसूची 1
7. In which schedule of the Constitution of India is language mentioned ?
- (A) First Schedule (B) Third Schedule
(C) Twelve Schedule (D) Eighth Schedule 1
8. विश्व का सबसे बड़ा लोकतान्त्रिक देश है
- (A) अमेरिका (B) भारत
(C) रूस (D) फ्रांस 1
8. Which one of the following is the largest democratic country in the world ?
- (A) America (B) India
(C) Russia (D) France 1
9. 'नारी शक्ति वंदन अधिनियम' भारतीय संसद में कब पारित किया गया ?
- (A) 1950 (B) 2014
(C) 1999 (D) 2023 1
9. When was the 'Nari Shakti Vandan Act' passed in the Indian Parliament ?
- (A) 1950 (B) 2014
(C) 1999 (D) 2023 1
10. बहुजन समाज पार्टी है
- (A) क्षेत्रीय दल (B) राष्ट्रीय दल
(C) अल्पसंख्यकों का दल (D) महिलाओं की पार्टी 1
10. Bahujan Samaj Party is a
- (A) Regional Party (B) National Party
(C) Minorities' Party (D) Women's Party 1

11. आर्थिक संवृद्धि की कौन-सी माप में देश की जनसंख्या को भी शामिल किया जाता है ?
 (A) राष्ट्रीय आय (B) प्रति व्यक्ति आय
 (C) सकल घरेलू उत्पाद (D) शुद्ध राष्ट्रीय आय 1
11. Which measurement of the economic growth includes the population of the country also ?
 (A) National Income (B) Per capita Income
 (C) Gross Domestic Product (D) Net National Income 1
12. ऑनलाइन फूड डिलिवरी का कार्य किस क्षेत्रक का व्यवसाय है ?
 (A) प्राथमिक (B) द्वितीयक
 (C) तृतीयक (D) इनमें से कोई नहीं 1
12. The work of online food delivery is a profession of which sector ?
 (A) Primary (B) Secondary
 (C) Tertiary (D) None of these 1
13. निम्नलिखित में से कौन अनौपचारिक साख का स्रोत है ?
 (A) मित्र से लिया गया ऋण. (B) व्यावसायिक बैंक से लिया गया ऋण
 (C) सहकारी समितियों से लिया गया ऋण (D) क्रेडिट कार्ड द्वारा नकद निकासी 1
13. Which one of the following is a source of informal credit ?
 (A) Credit taken from a friend
 (B) Credit taken from a commercial bank
 (C) Credit taken from co-operative societies
 (D) Cash withdrawal through a credit card 1
14. अन्तरराष्ट्रीय व्यापार से लाभ होता है
 (A) छोटे देशों को (B) बड़े देशों को
 (C) (A) और (B) दोनों. (D) किसी को नहीं 1
14. International trade favours
 (A) Small countries (B) Big countries
 (C) Both (A) and (B) (D) None of these 1

15. उपभोक्ता अदालतें
- (A) उपभोक्ता अधिकारों की रक्षा करती हैं (B) अन्तरराष्ट्रीय व्यापार को बढ़ावा देती हैं
(C) मानवाधिकारों की रक्षा करती हैं (D) उद्योगों के बीच प्रतिस्पर्धा को नियंत्रित करती हैं 1
15. Consumer courts
- (A) Protect the rights of a consumer
(B) Encourage international trade
(C) Protect human rights
(D) Control competitions between industries 1
16. भारत में कुल क्षेत्रफल का कितना हिस्सा पर्वतीय है ?
- (A) 40% (B) 30%
(C) 27% (D) 16% 1
16. What percentage of the total area of India is mountainous ?
- (A) 40% (B) 30%
(C) 27% (D) 16% 1
17. निम्नलिखित में से कौन भारत में लुप्त अस्तित्व वर्ग में है ?
- (A) एशियाई हाथी (B) चीता
(C) गैंडा (D) नीली भेड़ 1
17. Which one of the following comes under extinct class in India ?
- (A) Asian Elephants (B) Cheetah
(C) Rhinoceros (D) Blue Sheep 1
18. निम्नलिखित में से कौन-सा मोटे अनाज का उदाहरण नहीं है ?
- (A) ज्वार (B) बाजरा
(C) रागी (D) अरहर 1
18. Which one of the following is not an example of millet ?
- (A) Jowar (Sorghum) (B) Bajra
(C) Ragi (D) Arhar 1

19. सोहन अपने पशुओं के गोबर से ऊर्जा प्राप्त करने हेतु बायो गैस प्लांट लगाता है। ऊर्जा प्राप्ति का यह तरीका है
- (A) परम्परागत (B) गैर-परम्परागत
(C) जुगाड़ (D) इनमें से कोई नहीं 1
19. Sohan has installed a biogas plant to get fuel from animal wastes. This method of getting energy is
- (A) Conventional (B) Non-conventional
(C) A makeshift (D) None of these 1
20. जीवाश्म ईंधन द्वारा होता है
- (A) मृदा प्रदूषण (B) वायु प्रदूषण
(C) जल प्रदूषण (D) ध्वनि प्रदूषण 1
20. Fossil fuel causes
- (A) Soil pollution (B) Air pollution
(C) Water pollution (D) Noise pollution 1

खण्ड - B

PART - B

(वर्णनात्मक - I)

(Descriptive - I)

(निम्न प्रश्नों के उत्तर प्रत्येक लगभग 80 शब्दों में दीजिए।)

(Write answers of the following questions in about 80 words each.)

1. भारतीय अर्थव्यवस्था पर महामंदी के दो प्रमुख प्रभावों का उल्लेख करें। 2 + 2

अथवा

विश्व की अर्थव्यवस्था के विकास में तकनीकी के प्रमुख दो योगदानों का उल्लेख करें। 2 + 2

1. Mention *two* major impacts of the Great Depression on the Indian economy. 2 + 2

Mention *two* major contributions of technology in the development of world economy ? 2 + 2

2. 'लोकतंत्र उत्तरदायी, जिम्मेदार तथा वैध सरकार का गठन करता है।' स्पष्ट कीजिए।

4

अथवा

गठबन्धन सरकार से आप क्या समझते हैं ? गठबन्धन सरकार में क्षेत्रीय राजनीतिक दलों की भूमिका का उल्लेख कीजिए।

1 + 3

2. 'Democracy creates accountable, responsible and legitimate government.' Explain.

4

OR

What do you understand by coalition government ? Mention the role of regional political parties in coalition government.

1 + 3

3. वैश्वीकरण को परिभाषित कीजिए। इसके दो लाभ लिखिए।

2 + 1 + 1

अथवा

एक आम उपभोक्ता से किस प्रकार से छल हो सकता है ? वह अपने हितों की रक्षा कैसे कर सकता है ?

2 + 2

3. Define globalisation. Write two benefits of it.

2 + 1 + 1

OR

How an average consumer can be cheated ? How can he protect his interest ?

2 + 2

4. परिवहन व्यवस्था का विकास क्यों आवश्यक है ? कोई दो कारण बताइये।

2 + 2

अथवा

आधारभूत उद्योग तथा उपभोक्ता उद्योगों में विभेद कीजिए।

2 + 2

4. Why is the development of transportation system necessary ? Give any two causes.

2 + 2

OR

Differentiate between basic and consumption industries.

2 + 2

(वर्णनात्मक - II)

(Descriptive - II)

(निम्न प्रश्नों के उत्तर प्रत्येक) लगभग 150 शब्दों में दीजिए।)

(Write answers of the following questions in about 150 words each.)

5. असहयोग आन्दोलन से आप क्या समझते हैं ? इसके प्रमुख कारणों का उल्लेख करें। 2 + 4

अथवा

इटली और जर्मनी के एकीकरण में यूरोप में राष्ट्रवाद के उदय के योगदान का विश्लेषण कीजिए। 6

5. What do you understand by Non-Cooperation movement ? Mention its main reasons. 2 + 4

OR

Analyse the contribution of the rise of Nationalism in Europe in the unification of Italy and Germany. 6

6. भारत के संघात्मक शासन व्यवस्था की प्रमुख विशेषताओं का वर्णन कीजिए। 6

अथवा

लैंगिक असमानता से आप क्या समझते हैं ? भारत की राजनीतिक व्यवस्था में महिलाओं के प्रतिनिधित्व पर प्रकाश डालिए। 6

6. Describe the main features of Indian Federal System of Government. 6

OR

What do you understand by Gender inequality ? Throw light on the representation of women in the political system of India. 6

7. सार्वजनिक वस्तु से क्या आशय है ? एक औसत व्यक्ति के जीवन स्तर में सार्वजनिक वस्तुओं के किन्हीं दो प्रभावों की चर्चा कीजिए। 2 + 2 + 2

अथवा

क्या निजी क्षेत्र के विकास में सरकारी समर्थन की आवश्यकता पड़ती है ? किन्हीं दो कारणों का उल्लेख कीजिए। 3 + 3

7. What does Public goods mean ? Discuss any two effects of public goods on the standard of living of a common man. https://www.upboardonline.com 2 + 2 + 2

OR

Is the support of government required in the development of private sector ? Write any two reasons. 3 + 3



8. बहु-उद्देशीय नदी परियोजना क्या होती है ? यह जल का संरक्षण एवं प्रबन्धन में किस प्रकार सहायता करती है ? 2 + 4

G
अथवा

G
G
G
G

गैर-परम्परागत ऊर्जा संसाधन से आप क्या समझते हैं ? किन्हीं दो गैर-परम्परागत ऊर्जा स्रोतों पर प्रकाश डालिए।

2 + 2 + 2

8. What are the multipurpose river projects ? How do they help water conservation and water management ? 2 + 4

OR

What do you understand by non-conventional energy resources ? Throw light on any two sources of non-conventional energy. 2 + 2 + 2

(मानचित्र सम्बन्धी प्रश्न)

(Map Related Questions)

निर्देश : प्रश्न संख्या 9(A) तथा 9(B) मानचित्र से संबंधित हैं।

Instruction : Question Nos. 9(A) and 9(B) are related to map.



- 9(A). निम्नलिखित स्थानों को भारत के दिये गये रेखा मानचित्र में ⊙ चिह्न द्वारा नाम सहित दर्शाइए। सही नाम तथा स्थान अंकन के लिए $\frac{1}{2}$, $\frac{1}{2}$ अंक निर्धारित हैं :

- G
- | | |
|--|-----------------------------|
| i) वह जनपद जहाँ चौरा-चौरा की घटना घटी थी। | $\frac{1}{2} + \frac{1}{2}$ |
| ii) वह स्थान जहाँ नील की खेती करने वाले किसानों का आन्दोलन हुआ था। | $\frac{1}{2} + \frac{1}{2}$ |
| iii) वह स्थान जहाँ सर्वप्रथम महात्मा गाँधी ने नमक बनाया था। | $\frac{1}{2} + \frac{1}{2}$ |
| iv) वह स्थान जहाँ दिसम्बर, 1929 में भारतीय राष्ट्रीय कांग्रेस का अधिवेशन हुआ था। | $\frac{1}{2} + \frac{1}{2}$ |
| v) वह स्थान जहाँ चन्द्रशेखर आजाद शहीद हुए थे। | $\frac{1}{2} + \frac{1}{2}$ |



9(A). In the given outline map of India, locate the following places by the symbol ⊙ with names. For correct mention of name and marking of location $\frac{1}{2}$, $\frac{1}{2}$ marks have been allotted.

- | | | |
|------|--|-----------------------------|
| i) | The district where Chauri Chaura incident took place. | $\frac{1}{2} + \frac{1}{2}$ |
| ii) | The place where the movement of indigo farmers took place. | $\frac{1}{2} + \frac{1}{2}$ |
| iii) | The place where Mahatma Gandhi first made salt. | $\frac{1}{2} + \frac{1}{2}$ |
| iv) | The place where the Indian National Congress session was held in December, 1929. | $\frac{1}{2} + \frac{1}{2}$ |
| v) | The place where Chandrashekher Azad was martyred. | $\frac{1}{2} + \frac{1}{2}$ |

9(B). निर्देश : दिये गये भारत के रेखा मानचित्र में निम्नलिखित को दर्शाइए सही नाम तथा :

- | | | |
|------|--|-----------------------------|
| i) | महानदी को  चिह्न द्वारा राज्य के नाम सहित। | $\frac{1}{2} + \frac{1}{2}$ |
| ii) | तेलंगाना राज्य की राजधानी नगर ⊙ चिह्न द्वारा नाम सहित। | $\frac{1}{2} + \frac{1}{2}$ |
| iii) | दक्षिण भारत का एक सूती बस्त्र उद्योग का केन्द्र SS चिह्न द्वारा नाम सहित। | $\frac{1}{2} + \frac{1}{2}$ |
| iv) | उत्तर भारत में स्थित एक राष्ट्रीय पार्क ⊙ चिह्न द्वारा नाम सहित। | $\frac{1}{2} + \frac{1}{2}$ |
| v) | मध्य भारत में स्थित एक नदी घाटी परियोजना  चिह्न द्वारा नाम सहित। | $\frac{1}{2} + \frac{1}{2}$ |

9(B). Instruction : Show the following on the given outline map of India :

- | | | |
|------|---|-----------------------------|
| i) | River Mahanadi by symbol  , with name of the state. | $\frac{1}{2} + \frac{1}{2}$ |
| ii) | Capital city of the Telangana state by symbol ⊙ with name. | $\frac{1}{2} + \frac{1}{2}$ |
| iii) | A cotton textile industry situated in South India by symbol SS with name. | $\frac{1}{2} + \frac{1}{2}$ |
| iv) | A national park situated in North India by symbol ⊙ with name. | $\frac{1}{2} + \frac{1}{2}$ |
| v) | A river valley project situated in central India by symbol  with name. | $\frac{1}{2} + \frac{1}{2}$ |

(केवल दृष्टिबाधित परीक्षार्थियों के लिये मानचित्र कार्य के विकल्प के रूप में)

(Only for visually impaired examinees in lieu of Map work)

9(A). निर्देश : निम्नलिखित प्रश्नों के उत्तर अपनी उत्तर-पुस्तिका में लिखिए। मानचित्र का प्रयोग न कीजिए।

- | | | |
|------|---|---|
| i) | किस जनपद में चौरी-चौरा की घटना हुई थी ? | 1 |
| ii) | किस स्थान पर नील की खेती करने वाले किसानों का आन्दोलन हुआ था ? | 1 |
| iii) | किस स्थान पर गाँधी जी ने सर्वप्रथम नमक बनाया ? | 1 |
| iv) | किस स्थान पर दिसम्बर, 1929 में भारतीय राष्ट्रीय कांग्रेस का अधिवेशन हुआ ? | 1 |
| v) | किस स्थान पर चन्द्रशेखर आजाद शहीद हुए थे ? | 1 |